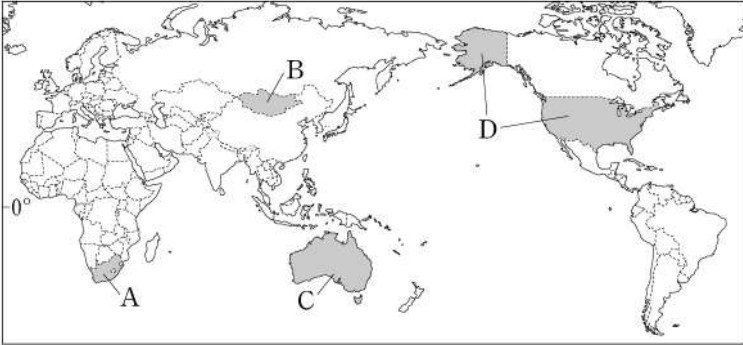


제 4 교시

사 회

1. A~D 국가가 위치한 대륙을 바르게 연결한 것은?



- ① A - 유럽                      ② B - 아프리카  
③ C - 남아메리카            ④ D - 북아메리카

2. 다음 설명에 해당하는 농업은?

선진국의 자본과 원주민의 노동력을 결합한 농업 방식으로 열대 기후 지역에서는 카카오, 천연고무 등의 상품 작물을 대규모로 재배한다.

- ① 낙농업      ② 혼합 농업      ③ 수목 농업      ④ 플랜테이션

3. 인구의 흡인 요인을 <보기>에서 고른 것은?

<보기>

- ㄱ. 전쟁과 분쟁                      ㄴ. 풍부한 일자리  
ㄷ. 좋은 교육 시설                  ㄹ. 열악한 주거 환경

- ① ㄱ, ㄴ      ② ㄱ, ㄹ      ③ ㄴ, ㄷ      ④ ㄷ, ㄹ

4. 다음 내용이 설명하는 지형은?

- 석회암이 빗물이나 지하수에 의하여 녹으면서 형성된 지형
- 대표적으로 중국의 구이린, 베트남의 할롱 베이 등에서 나타남

- ① 화산 지형                      ② 빙하 지형  
③ 건조 지형                      ④ 카르스트 지형

5. 다음 설명에 해당하는 신·재생 에너지는?

- 아이슬란드, 뉴질랜드 등 화산 지대에서 많이 활용된다.
- 땅속의 열과 뜨거운 물을 이용하여 난방을 하거나 전력을 생산한다.

- ① 조력 에너지                      ② 지열 에너지  
③ 풍력 에너지                      ④ 바이오 에너지

6. (가)에 들어갈 용어는?

우리나라의 (가) 은/는 한반도와 그 부속 도서로 구성되어 있다.

- ① 영토                      ② 영해  
③ 영공                      ④ 배타적 경제 수역

7. 다음 설명에 해당하는 기후는?

적도 부근의 해발 고도가 높은 산지에는 일 년 내내 봄과 같은 온화한 날씨가 나타난다.

- ① 고산 기후      ② 건조 기후      ③ 한대 기후      ④ 툰드라 기후

8. 다음 현상의 주된 원인은?

- 해수면 상승
  - 빙하 면적 감소
  - 기상 이변 증가
- ① 원유 유출      ② 지구 온난화  
③ 방사능 오염      ④ 소음과 진동

9. 다음 내용에 해당하는 문화의 속성은?

- 문화는 고정된 것이 아니라 시간의 흐름에 따라 그 모습이 달라진다.
- 옛날에는 한복을 주로 입었지만 요즘은 양복을 주로 입는다.

- ① 학습성      ② 보편성      ③ 변동성      ④ 공유성

10. 민주 선거의 기본 원칙으로 옳지 않은 것은?

- ① 유권자가 행사하는 투표권의 가치는 같아야 한다.  
② 일정 나이 이상의 전 국민에게 선거권을 부여한다.  
③ 모든 유권자는 필요한 경우 대리인을 통해 투표할 수 있다.  
④ 유권자가 누구에게 투표했는지 다른 사람이 알지 못하도록 한다.

11. 다음과 같은 특징이 나타나는 정부 형태는?

- 의회 다수당의 대표가 총리가 되어 행정부인 내각을 구성한다.
- 의회는 내각을 불신임하여 사퇴시킬 수 있고, 총리는 의회를 해산할 수 있다.

- ① 대통령제                      ② 의원 내각제  
③ 지방 자치제                      ④ 귀족 정치제

12. 다음 설명에 해당하는 법원은?

- 우리나라의 최고 법원이다.
- 주로 최종 재판인 3심 판결을 담당한다.

- ① 대법원      ② 가정 법원      ③ 특허 법원      ④ 행정 법원

13. 다음 설명에 해당하는 법은?

- 개인과 국가의 관계나 국가 기관과 관련된 일을 다루는 법이다.
- 헌법, 형법, 행정법 등이 이에 속한다.

- ① 공법      ② 사법      ③ 사회법      ④ 관습법

14. 다음 설명에 해당하는 국민의 기본권은?

- 국가로부터 인간다운 생활을 보장받을 수 있는 권리이다.
- 교육을 받을 권리, 근로의 권리, 쾌적한 환경에서 살 권리 등이 이에 속한다.

- ① 자유권    ② 평등권    ③ 참정권    ④ 사회권

15. 우리나라 국회의 기능으로 옳지 않은 것은?

- ① 국정 감사를 실시한다.  
 ② 법률을 제정하고 개정한다.  
 ③ 국군을 지휘하고 통솔한다.  
 ④ 행정부가 제출한 예산안을 심의·확정한다.

16. 두 사람의 대화 내용에 해당하는 실업의 종류는?

산업 구조 변화 등과 같은  
경제 구조 변화로 실업이  
발생할 수 있어요.

맞아요. 우리나라에서도 석탄 산업이  
쇠퇴하면서 많은 관련 종사자들이  
직업을 잃게 되었어요.



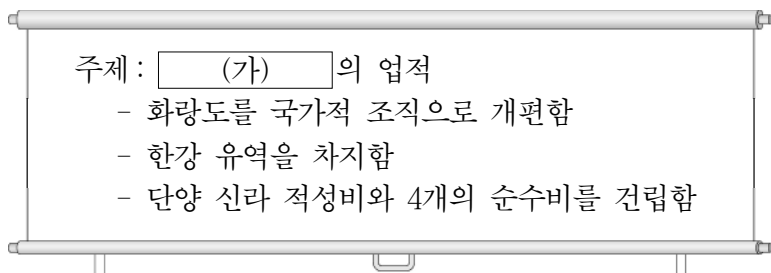
- ① 자발적 실업                      ② 구조적 실업  
 ③ 계절적 실업                      ④ 마찰적 실업

17. 다음 유물이 처음 제작된 시기의 특징으로 옳은 것은?



- ① 고조선이 건국되었다.  
 ② 지배 계급이 등장하였다.  
 ③ 비파형 동검을 사용하였다.  
 ④ 농경과 목축이 시작되었다.

18. (가)에 들어갈 신라의 왕은?



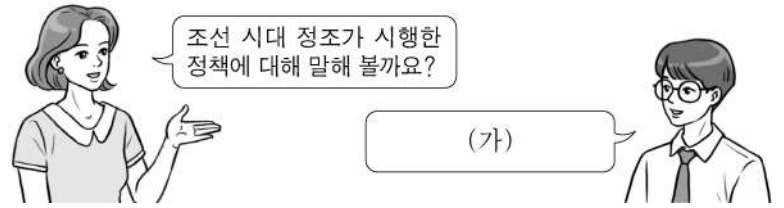
- ① 신문왕    ② 진흥왕    ③ 장수왕    ④ 근초고왕

19. 다음 설명에 해당하는 인물은?

조선 후기의 대표적인 실학자로서 『열하일기』, 『양반전』 등 여러 작품을 남겼으며, 청의 선진 문물을 적극 수용할 것을 강조하였다. 또한 수레와 선박, 화폐를 이용한 상공업의 진흥을 주장하였다.

- ① 묘청    ② 장보고    ③ 이순신    ④ 박지원

20. (가)에 들어갈 내용으로 옳지 않은 것은?



- ① 규장각을 설립하였어요.  
 ② 장용영을 설치하였어요.  
 ③ 훈민정음을 창제하였어요.  
 ④ 수원 화성을 축조하였어요.

21. 다음 정책을 시행한 고려의 왕은?

- 쌍성총관부를 공격하여 철령 이북의 영토를 되찾음
- 신돈을 등용하여 전민변정도감을 설치함

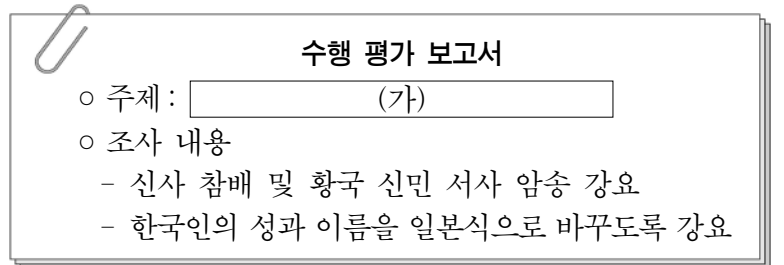
- ① 왕건    ② 광종    ③ 공민왕    ④ 광해군

22. 다음 활동을 전개한 단체는?

- 만민 공동회를 열어 열강의 이권 침탈을 비판함
- 언론·집회·결사의 자유 등을 요구하는 자유 민권 운동을 전개함

- ① 신민회                      ② 독립 협회  
 ③ 조선어 학회              ④ 조선 물산 장려회

23. (가)에 들어갈 내용으로 가장 적절한 것은?



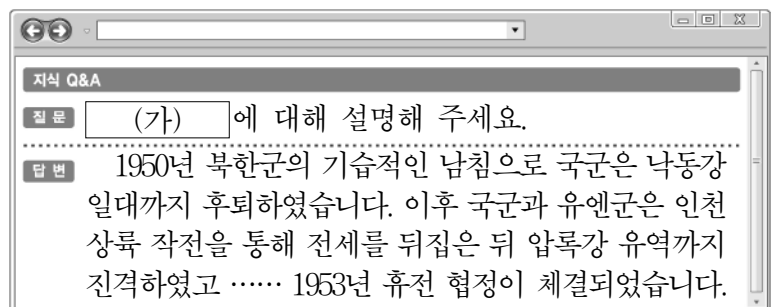
- ① 민족 말살 정책                      ② 토지 조사 사업  
 ③ 국내 진공 작전                      ④ 국채 보상 운동

24. 다음 설명에 해당하는 사건은?

별기군에 비해 차별 대우를 받은 구식 군인들이 정부 고관과 일본인 교관을 죽이고 일본 공사관을 습격하였다.

- ① 임진왜란    ② 임오군란    ③ 아관 파천    ④ 만적의 난

25. (가)에 해당하는 사건은?



- ① 6·25 전쟁                      ② 4·19 혁명  
 ③ 청·일 전쟁                      ④ 청산리 대첩